

Демонстрационный вариант

Диагностическая работа для учащихся 5 классов

МАТЕМАТИЧЕСКАЯ ГРАМОТНОСТЬ

ИНСТРУКЦИЯ для УЧАЩИХСЯ

Работа состоит из четырех заданий, каждое задание описывает одну ситуацию. В каждом задании два вопроса. Таким образом, всего в работе 8 вопросов, на которые вам необходимо будет дать ответ.

На выполнение работы отводится 40 минут.

В работе вам встретятся задания с разной формой ответа.

При ответе на вопрос с выбором ответа нужно отметить ответ, который считаете верным, поставив знак «✓».

При ответе на вопрос с кратким ответом записывайте ответ в специально отведенном месте после слов «Ответ», «числовое выражение».

В работе есть вопросы, к которым нужно не только дать ответ, но и записать решение или объяснение. В этих заданиях написано: «запишите решение», «докажите», «объясните».

Желаем успеха!

Выполните задания 1-4.

Задание 1. «Кассовый аппарат». Кассовый автомат используют для пополнения счёта на карте «Проезд на транспорте».

Информация на экране автомата:

Клиент может ежедневно вносить:

- *Купюрами – не более 300 рублей,*
- *Мелочью – не более 30 рублей.*



У Гриши есть 70 рублей мелочью (монеты по 10 р. и 5 р.) – 8 монет, а также 400 рублей шестью купюрами.

Всего у Гриши денег – 470 рублей.

Он пересчитал все монеты и купюры и заполнил таблицу.

Количество монет и купюр



6



2



4



2

Вопрос 1/2. Составьте числовое выражение, которое показывает, что Гриша учел в таблице всю сумму денег.

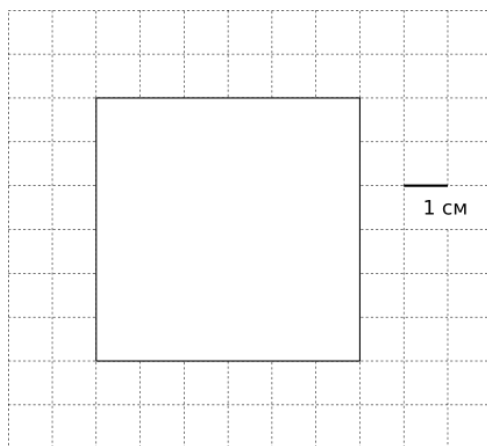


Числовое выражение: _____

Вопрос 2/2. Докажите, что Гриша может за два дня положить на счёт все купюры на сумму 400 рублей. Объясните свой ответ.




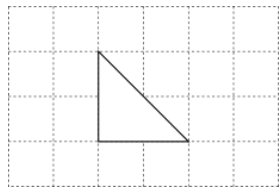
Задание 2. «Кожаная мозаика». В кружке «Кожаная мозаика» ребята делают панно из кусочков кожи. Лена и Маша решили сложить квадрат со стороной 6 см с помощью одинаковых фигур. Лена – из прямоугольников, Маша – из треугольников.



Вопрос 1/2. Запишите в таблице 1, сколько фигур потребуется каждой девочке.



Таблица 1

	<i>Лена</i>	<i>Маша</i>
Форма		
Количество фигур	_____ шт.	_____ шт.

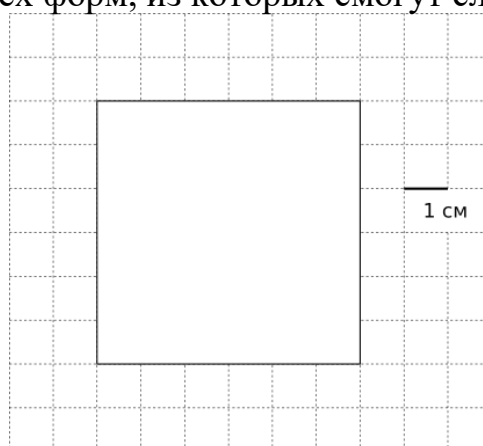
Вопрос 2/2.

На занятии кружка ученики разложили все оставшиеся кусочки кожи по форме, пересчитали их, придумали название каждой форме. Вот что у них получилось.



НАЗВАНИЕ ФОРМЫ	ФОРМА	КОЛИЧЕСТВО ОДИНАКОВЫХ КУСОЧКОВ (ШТУК)
«КВАДРАТ»		36
«МЯГКИЙ ЗНАК»		6
«КРЕСТИКИ-НОЛИКИ»		3
«УГОЛОК»		9

Ребята хотят сложить квадрат со стороной 6 см из одинаковых кусочков. Запишите названия всех форм, из которых смогут сложить такой квадрат.

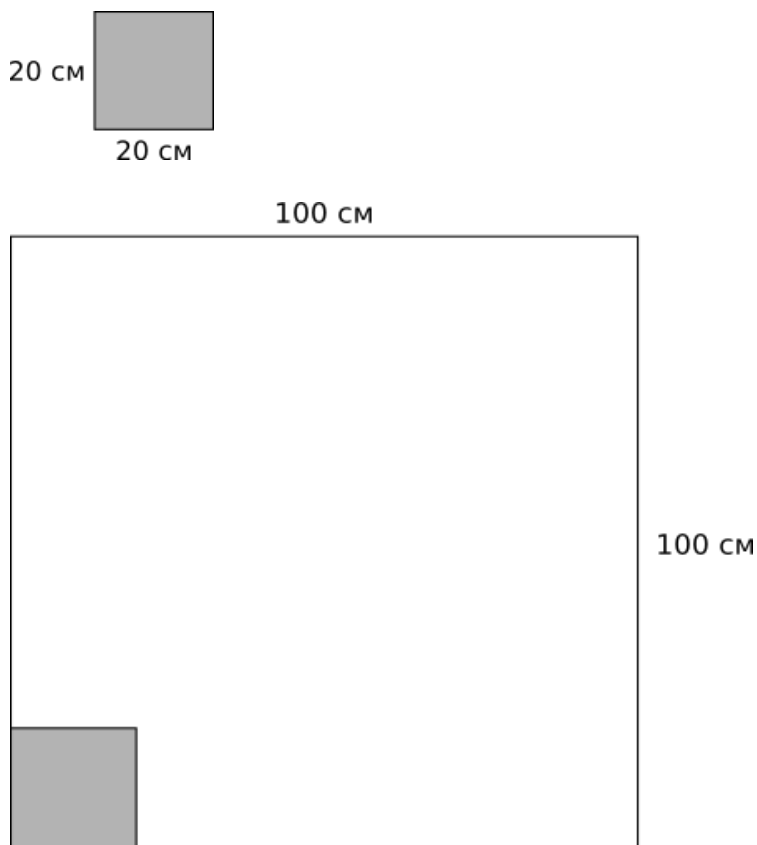


Ответ: _____

Задание 3. «Выкладывание плитки». Витя с дедушкой решили выложить плиткой небольшой участок земли перед крыльцом дома на дачном участке.

Размеры участка земли – 1 м х 1 м (100 см х 100 см).

Они решили купить плитку квадратной формы со стороной 20 см.



Вопрос 1/2. Сколько таких плиток им надо купить?



Выберите и отметьте верный ответ.

- А. 10 000 шт.
- Б. 400 шт.
- В. 100 шт.
- Г. 25 шт.

Вопрос 2/2. В магазине выяснилось, что нет плиток нужного размера, но имеются два вида плиток, которые можно приложить друг к другу и сложить из них плитку размером 20 см х 20 см.




Рассчитайте, сколько плиток каждой формы нужно купить. Для этого заполните следующую таблицу.

Форма плитки	Сколько надо плиток этой формы, чтобы сложить из них плитку размером 20 см х 20 см?	Сколько надо плиток этой формы, чтобы выложить квадратную площадку размером 100 см х 100 см?
10 см  20 см	_____ ШТ.	_____ ШТ.
10 см  10 см	_____ ШТ.	_____ ШТ.

Задание 4. «Багаж в аэропорту». Иван Иванович собирается полететь в отпуск на самолете авиакомпании «Сокол».

Он узнал, что в салон самолета можно взять ручную кладь весом не более 7 кг. Также в стоимость билета входит 1 место багажа весом до 20 кг.

Если у пассажира несколько мест багажа, то на каждое из них можно оформить дополнительное место багажа. Дополнительное место – один предмет весом до 20 кг – стоит 1000 р. Если предмет весом больше 20 кг, то за каждый «лишний» килограмм сверх двадцати нужно заплатить ещё 300 р. (вес округляется в большую сторону до килограмма).



Прибыв в аэропорт, Иван Иванович взвесил каждый предмет своего багажа.



19 кг 900 г



1 кг 800 г



3 кг 900 г



4 кг 500 г

Вопрос 1/2. Какие два предмета может взять с собой в салон самолета Иван Иванович? Запишите в следующей таблице названия этих предметов.



Ручная кладь

Решение 1		
Решение 2		

Вопрос 2/2. Иван Иванович взял в салон самолета рюкзак и ноутбук. Как Ивану Ивановичу поступить с оставшимися предметами? Запишите ответ, объясните его.



Ответ: _____

Объяснение: _____
